

M E I N

T R A U M -

Z

I

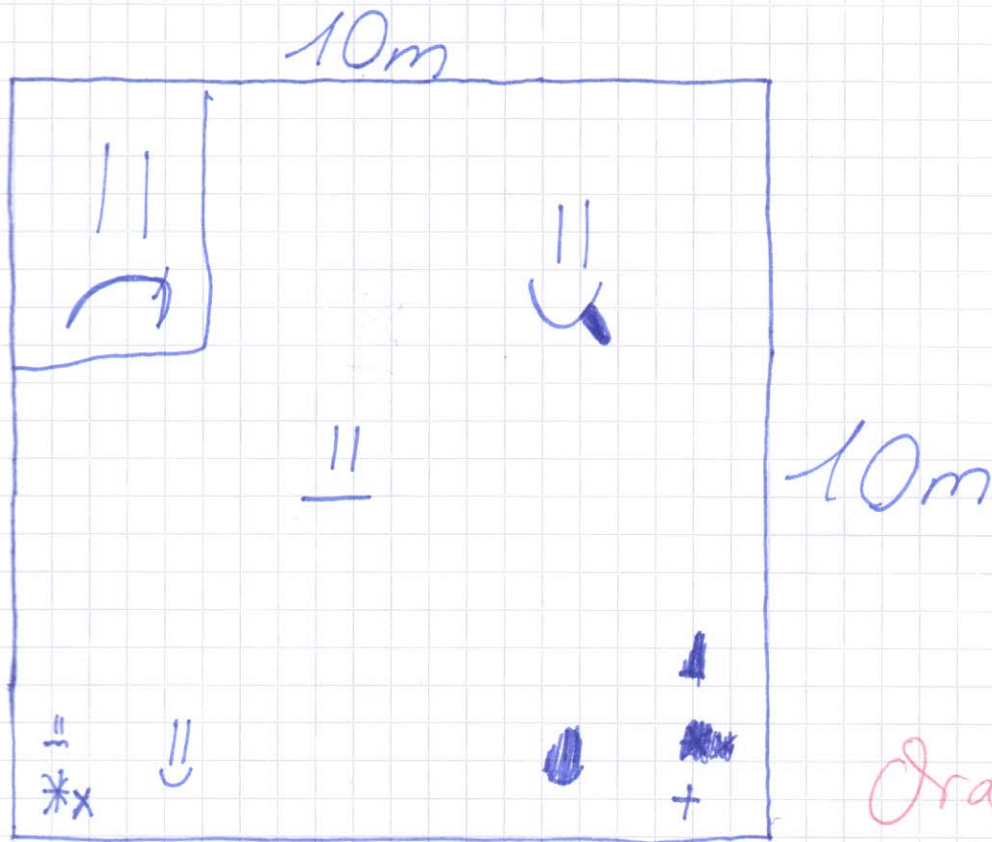
M

M

R

E

Grundriss



Ordentliches
Zeichnen!

* = Flachbildfernseher

+ = Hochbett mit Rutsche

X = Nii U + Splateon + Maria Kart 8

U = Fatboy

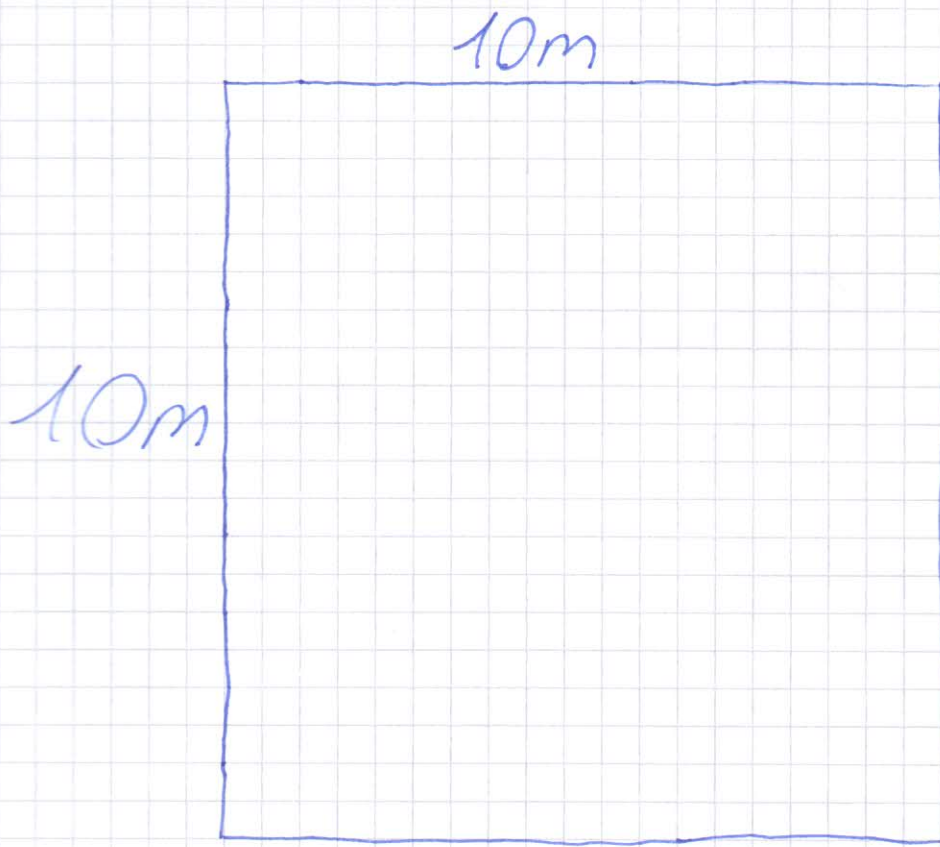
U = großer Pool

U = Zimmerspringbrunnen

U = begehbare Kleiderschrank

U = Sofa

Länge, breite, höhe, Fläche



Länge: 10m

breite: 10m

höhe: 2,5m

Fläche: 100 m²



Bodenbelag & Wandfarbe

Bodenbelag:

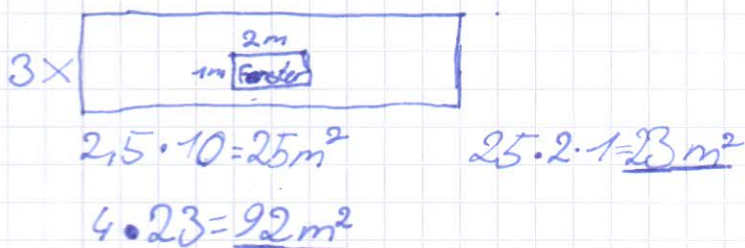
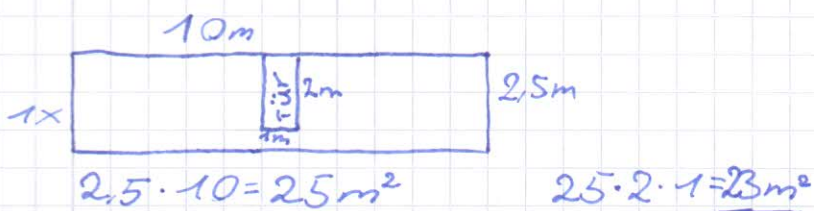
Laminat: ~~100 pro m²~~

40€ pro m²

~~100~~ $100 \cdot 40 = 4000$

Der Bodenbelag kostet also 4000€ ✓

Wandfarbe & Tapete



Decke?

~~100~~

Für 92m² braucht man ca. 12 Liter Farbe und in einem Eimer sind 15 Liter Farbe. ~~Der~~ und ein Eimer kostet 30€. ✓

Tapete:

Ein m² Tapete kostet 2€ und ich brauche 92m². ✓

$2 \cdot 92 = 182 \text{ €}$ // Für die Tapete muss ich 182 € bezahlen.

